



УТВЕРЖДАЮ

Начальник отдела по образованию
Каменского райисполкома

Ж.И. Авдей

03.04.2023

**Районная олимпиада по истории
2022/2023 учебный год
9 класс**

Уважаемые участники олимпиады!
Ответы размещаются непосредственно на бланке.
На выполнение заданий отводится 120 минут!

ВСЕМИРНАЯ ИСТОРИЯ.

Задание I. Правильным является только один вариант ответ.

За каждый полный правильный ответ – 1 балл. Максимальное количество баллов – 15.

- Первую широкомасштабную заморскую колонизацию в истории начали:
а) древние евреи; б) древние египтяне; в) финикийцы; г) филистимляне.
- Какое поэтическое название было у Рима:
а) «Царский город»; б) «белый город»; в) «священный город»; г) «вечный город».
- Раскол христианской церкви на православную и католическую произошел в:
а) 809 г.; б) 999 г.; в) 1054 г.; г) 1075 г.
- Хазарский каганат прекратил свое существование в результате походов князя:
а) Святослава Игоревича; б) Ярослава Мудрого;
в) Святослава Владимировича; г) Владимира Святославовича.
- В 1119 г. небольшая группа рыцарей во главе с Гуго де Пейном на территории Палестины основала духовно-рыцарский орден известный в истории под названием:
а) Тевтонский орден; б) Мальтийский орден;
в) Орден тамплиеров; г) Орден Алькантара.
- В начале XIII - XIV в. самым могущественным государством на территории Индии являлась (-лся, - лось):
а) Империя Великих Моголов; б) Государство маратхов;
в) Империя Маурьев; г) Делийский султанат.
- В 1327 г. первым московским князем, получившим ярлык на титул великого князя владимирского стал:
а) Иван Калита; б) Симеон Гордый; в) Иван Красный; г) Дмитрий Донской.
- После войны Алой и Белой розы к власти пришла династия:
а) Йорков; б) Ланкастеров; в) Тюдоров; г) Виндзоров.
- Вестфальский мирный договор завершил:
а) Семилетнюю войну; б) Северную войну;
в) Войну за испанское наследство; г) Тридцатилетнюю войну.
- Великую французскую революцию завершил военный переворот организованный:
а) Людовиком XVI; б) Наполеоном Бонапартом;
в) Карлом X; г) Луи Наполеоном Бонапартом.
- Национальное собрание Германии начало свою работу в феврале 1919 г. в:
а) Веймаре; б) Киле; в) Берлине; г) Потсдаме.

12. Нацистская Германия 1 сентября 1939 г.:
- подписала Компьенское перемирие с Францией;
 - начала военные действия против Югославии;
 - заключила Стальной пакт;
 - напала на Польшу.
13. Военно-политический союз капиталистических стран, созданный в годы холодной войны назывался:
- ОВД;
 - СЭВ;
 - ЕЭС;
 - НАТО.
14. Компания преследования коммунистов и других «врагов нации» в США в первой половине 1950-х гг. известна как:
- доктрина Трумэна;
 - маккартизм;
 - уотергейтское дело;
 - тэтчеризм.
15. Операция «Чистые руки», которую осуществила итальянская полиция в 1992 г., была направлена на:
- исключение коммунистов из состава правительства;
 - предотвращение военного переворота;
 - борьбу с коррупцией;
 - ликвидацию неонацистских организаций.

Задание II.

За каждый полный правильный ответ – 1 балл. Максимальное количество баллов – 20

16. Расставьте события в хронологической последовательности.

- первый крестовый поход;
- образование Древнерусского государства;
- образование Франкской империи;
- начало Столетней войны;
- падение западной Римской империи;
- возникновение английского парламента.

1-	2-	3-	4-	5-	6-
----	----	----	----	----	----

17. Соотнесите имена художников Возрождения и их произведения:

- Рафаэль Санти;
- Иероним Босх;
- Альбрехт Дюрер;
- Питер Брейгель Старший;
- Леонардо да Винчи;
- Воз сена;
- Крестьянский танец;
- Тайная вечеря;
- Сикстинская мадонна;
- Рыцарь, смерть и дьявол.

1-	2-	3-	4-	5-
----	----	----	----	----

18. Соотнесите события и государства:

- восстание тайпинов;
- Япония;
- принятие Гомстед-акта;
- Великобритания;
- возникновение чартизма;
- империя Цин;
- восстание декабристов;
- США;
- революция Мейдзи;
- Российская империя.

1-	2-	3-	4-	5-
----	----	----	----	----

19. Соотнесите даты и события:

- 1958 г.;
- А) «Пражская весна» в Чехословакии;
- 1968 г.;
- Б) Исламская революция в Иране;
- 1977 г.;
- В) принятие Конституции Пятой республики во Франции;
- 1978 г.
- Г) Принятие Конституции «развитого социализма» в СССР.

1-	2-	3-	4-
----	----	----	----

Задание III. УЗНАЙТЕ ПОНЯТИЯ ПО ОПРЕДЕЛЕНИЯМ И ЗАПИШИТЕ ИХ В СООТВЕТСТВУЮЩИЕ ПУСТЫЕ ЯЧЕЙКИ ТАБЛИЦЫ:

За каждый полный правильный ответ – 1 балл. Максимальное количество баллов – 10

20. В средневековой Европе союз государств, возглавляемый одним монархом или объединение двух и более христианских конфессий	
21. Общее название социальных групп, на которые исторически разделяли индийское общество	
22. Государство, которое владеет колониальными либо другими зависимыми территориями. Последние по отношению к ней обычно имеют заморское положение.	
23. Японский военачальник, правитель в XII – XIX вв.	
24. Исторически сложившаяся устойчивая этническая общность людей, основанная на общности языка, территории, экономической жизни, а также на специфической для данного народа культуре	
25. План ведения скоротечной войны, согласно которому победа достигается в короткие сроки, исчисляемые днями, неделями или месяцами, до того, как противник сумеет мобилизовать и развернуть свои основные военные силы.	
26. Независимость государства во внешних делах и верховенство государственной власти во внутренних делах.	
27. Форма непосредственного волеизъявления граждан, выражающаяся в голосовании по наиболее значимым вопросам общегосударственного, регионального или местного значения.	
28. Комплексное, системное, растущее единство современного мира, обусловленное необходимостью решения экономических и других мировых проблем (экологическая, демографическая и т.д.), включая соблюдение социальных, экономических и индивидуальных прав и свобод личности.	
29. Возмещение побежденным государством ущерба, причиненного государству, подвергнутому нападению.	

Задание IV. ЗАПОЛНИТЕ ТАБЛИЦУ

«Сходные и отличные черты христианства и ислама»

Максимальное количество баллов – 12.

	Критерии для сравнения	Христианство	Ислам
30.	Время и место возникновения		
31.	Основоположник		
32.	Священная книга		

Задание V. ЧТО ОБЪЕДИНЯЕТ ИСТОРИЧЕСКИХ ДЕЯТЕЛЕЙ?

За каждый полный правильный ответ – 2 балла. Максимальное количество баллов – 10

33.	Октавиан Август, Нерон, Троян, Марк Аврелий, Веспасиан.	
34.	Рагнар Лодброк, Бьёрн Железнобокий, Харальд Прекрасноволосый, Лейф Счастливый.	
35.	Шарль Луи де Монтескье, Вольтер, Дени Дидро, Жан Жак Руссо	

36.	Михаил Тухачевский, Михаил Фрунзе, Семен Буденный, Василий Чапаев.	
37.	Дуайт Эйзенхауэр, Бернард Лоу Монтгомери, Николай Фёдорович Вагутин, Эрвин Роммель.	

Задание VI. НАПИШИТЕ ДАТЫ ОБРАЗОВАНИЯ ГОСУДАРСТВ:

За каждый полный правильный ответ – 1 балл. Максимальное количество баллов – 8

38.	Римская республика	
39.	Империя Цинь	
40.	Киевская Русь	
41.	Российская империя	
42.	США	
43.	Израиль	
44.	Российская Федерация	
45.	Федеративная Республика Германия	

Задание VII. 46. ПРОЧИТАЙТЕ ТЕКСТ И ОТВЕЬТЕ НА ВОПРОСЫ.

Максимальное количество баллов – 6

«Франция проиграла сражение, но она не проиграла войну! Ничего не потеряно, потому что эта война мировая. Настанет день, когда Франция вернет себе свободу и величие ... Вот почему я обращаюсь ко сем французам объединиться вокруг меня во имя действия, самопожертвования и надежды»

1. Какому известному политическому деятелю принадлежит данное высказывание?

2. В связи с какими событиями эта речь была произнесена?

3. Какую роль этот политик сыграл в дальнейшем в истории Франции?

Задание VIII. ОПРЕДЕЛИТЕ ПРЕДСТАВЛЕННЫЕ НА ИЛЛЮСТРАЦИЯХ ИСТОРИЧЕСКИЕ ЛИЧНОСТИ. УКАЖИТЕ СТРАНУ И СОБЫТИЯ, СВЯЗАННЫЕ С НИМИ:

За каждый полный правильный ответ – 3 балла. Максимальное количество баллов – 24





- | | |
|-------------------|--|
| А) Великобритания | І) Образование КНР |
| Б) Германия | ІІ) Турецкая революция |
| В) Япония | ІІІ) Вторжение в Эфиопию |
| Г) Франция | ІV) Выход из Европейского союза |
| Д) Турция | V) Принятие Конституции пятой республики |
| Е) Италия | VI) Бородинская битва |
| Ж) США | VII) Объединение Германии |
| З) Россия | VIII) Объединение Японии |
| И) Китай | IX) Война за независимость США |

Ответы:

№	Историческая личность	Страна	События
47.			
48.			
49.			
50.			
51.			
52.			
53.			
54.			

ИСТОРИЯ БЕЛАРУСИ.

Задание I. Правильным является только один вариант ответа.

За каждый полный правильный ответ – 1 балл. Максимальное количество баллов – 15

- При пашенном земледелии для рыхления земли древние люди в качестве основного орудия труда использовали:
 - нож;
 - рало;
 - топор;
 - мотыгу.
- Определите важнейшее изменение в хозяйственной жизни древних людей, характерное для каменного века.
 - появление керамической посуды;
 - распространение пашенного земледелия;
 - разработка болотных месторождений железной руды;
 - возникновение городищ.
- Объединение славянских племен, которые расселились в верховьях Днепра, Западной Двины, Волги, на юге Чудского озера, называлось:
 - дреговичи;
 - древляне;
 - радимичи;
 - кривичи.
- Минск получил привилегий на магдебургское право в:
 - 1498 г.;
 - 1499 г.;
 - 1509 г.;
 - 1534 г.
- Представители какого магнатского рода ВКЛ носили прозвище Рыжий, Черный,

- Сиротка, Рыбонька:
а) Сапеги; б) Огинские; в) Радзивиллы; г) Пацы.
6. Ям – Запольское перемирие между Речью Посполитой и Российским государством было подписано в:
а) 1582 г.; б) 1618 г.; в) 1634 г.; г) 1667 г.
7. В результате распространения униатского вероисповедания в XVIII в. в Беларуси сохранилась только одна православная епархия:
а) Могилевская; б) Полоцкая; в) Слуцкая; г) Пинская.
8. Согласно условиям документа «Взаимное поручительство обоих народов», статус города, где собирались сеймы, кроме Варшавы, получал:
а) Брест; б) Вильнюс; в) Гродно; г) Минск.
9. Прочитайте выдержку из исторического документа.
«Всякая власть в человеческом обществе берет свое начало в воле народа. И чтобы целостность государства, свобода граждан и общественный порядок оставались всегда в равновесии, правительство народа польского должно состоять, и по воле этого закона всегда будет состоять, из трех властей, то есть законодательной власти у соединенных станов, высшей исполнительной власти у короля и стражи и власти судебной...»
Определите название документа:
а) акт Люблинской унии 1569 г.;
б) Кардинальные права 1768 г.;
в) Конституция Речи Посполитой 3 мая 1791 г.;
г) акт Тарговицкой конфедерации 1792 г.
10. Манифест 17 октября 1905 провозгласил:
а) создание Государственной думы с совещательными полномочиями;
б) создание Государственной думы с законодательными полномочиями;
в) право участия в выборах только привилегированным сословиям;
г) запрет собраний и союзов.
11. Первым командующим Западным фронтом в годы Великой Отечественной войны был:
а) С.К. Тимошенко; б) В.Д. Соколовский; в) И.С. Конев; г) Д.Г. Павлов.
12. Белорусский штаб партизанского движения был создан в:
а) 1940 г.; б) 1941 г.; в) 1942 г.; г) 1943 г.
13. Введение нового Государственного флага БССР в 1951 г. было вызвано:
а) выходом БССР на международную арену;
б) проведением белорусизации;
в) изменениями в руководстве БССР;
г) проведением демократизации в БССР.
14. Для социально – экономического развития Республики Беларусь в первой половине 1990-х гг. было характерно (-н):
а) национализация предприятий;
б) экономический кризис;
в) использование исключительно рыночных механизмов управления экономикой;
г) рост доходов населения.
15. Более высокий прирост городского населения по сравнению с сельским, что в итоге ведет к усилению роли горожан, - это:
а) урбанизация; б) интеграция; в) коренизация; г) модернизация.

Задание II.

За каждый полный правильный ответ – 1 балл. Максимальное количество баллов – 19

16. Расставьте события в хронологической последовательности.

- а) издание «Катехизиса» С.Будным; б) битва у деревни Лесная;
в) заключение Островского соглашения; г) битва на реке Судомири;
д) Городельская уния; е) создание креста Евфросинии Полоцкой.

1-	2-	3-	4-	5-	6-
----	----	----	----	----	----

17. Соотнесите имена художников и их произведения:

- 1) Казимир Альхимович; а) Старый портной;
2) Никодима Силиванович; б) Минск. 3 июля 1944 г.;
3) Валентин Волков; в) Похороны Гедимины;
4) Юдель Пэн; г) Тайная вечеря;
5) Наполеон Орда; д) Ружанский дворец.

1-	2-	3-	4-	5-
----	----	----	----	----

18. Соотнесите даты и события истории БССР:

- 1) 1921 г.; а) «Год великого перелома»;
2) 1925 г.; б) подписание Рижского мирного договора;
3) 1929 г.; в) принятие третьей Конституции БССР;
4) 1937 г.; г) начало политики индустриализации в СССР и БССР.

1-	2-	3-	4-
----	----	----	----

19. Соотнесите автора с его произведением:

- 1) Максим Богданович; а) «Колосья под серпом твоим»;
2) Янка Купала; б) «Слуцкие ткачихи»;
3) Василий Быков; в) «Разоренное гнездо»;
4) Владимир Короткевич; г) «Журавлиный крик».

1-	2-	3-	4-
----	----	----	----

Задание III. ОПРЕДЕЛИТЕ ПРЕДСТАВЛЕННЫЕ НА ИЛЛЮСТРАЦИЯХ ИСТОРИЧЕСКИЕ ЛИЧНОСТИ ИЗ ИСТОРИИ БЕЛАРУСИ:

За каждый полный правильный ответ – 1 балл. Максимальное количество баллов – 6



20 -



21 -



22 -



24 -



25 -



26 -

Задание IV. УЗНАЙТЕ ПОНЯТИЯ ПО ОПРЕДЕЛЕНИЯМ И ЗАПИШИТЕ ИХ В СООТВЕТСТВУЮЩИЕ ПУСТЫЕ ЯЧЕЙКИ ТАБЛИЦЫ:

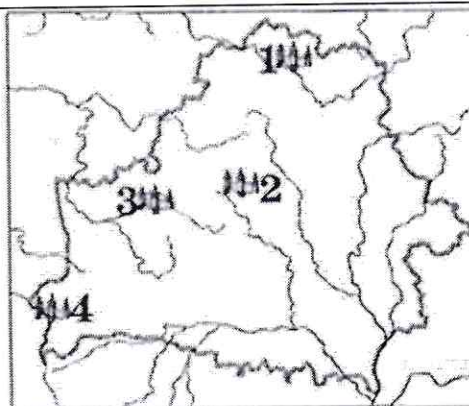
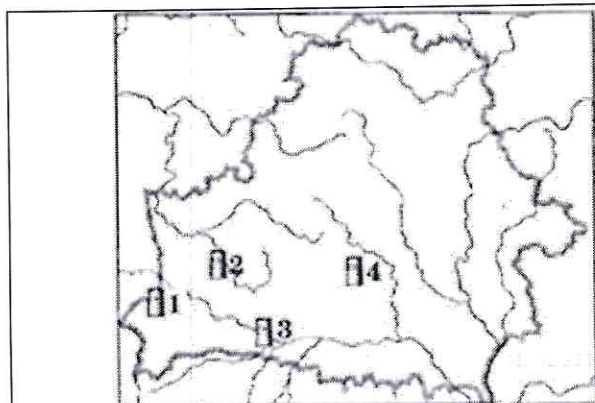
За каждый полный правильный ответ – 1 балл. Максимальное количество баллов – 8

27.	Административно-обособленные части городов или предместий ВКЛ, которые находились под властью феодалов или церкви и на которые не распространялась власть городского самоуправления	
28.	Столовое имение, вид государственного земельного владения, прибыль с которого шла на нужды монарха Речи Посполитой и государственной казны	
29.	Путь развития капитализма, при котором крестьянам разрешалось закрепить свои земельные наделы в собственность при одновременном разрушении сельской общины во время проведения столыпинской аграрной реформы	
30.	Занятие вооружёнными силами государства не принадлежащей ему территории, не сопровождающееся обретением суверенитета над ней, обычно временное.	
31.	Условное название государства, территория которого используется в качестве пограничной зоны между враждующими странами в целях недопущения разрешения их конфликта вооруженным путем.	
32.	В годы Второй мировой войны городские концентрационные лагеря, которые создавались для массового уничтожения еврейского населения на оккупированной германскими войсками территории.	

33.	Стратегическая наступательная операция Красной Армии 23 июня — 29 августа 1944 г., в результате которой БССР была освобождена от германских захватчиков.	
34.	Правовая принадлежность личности к государству.	

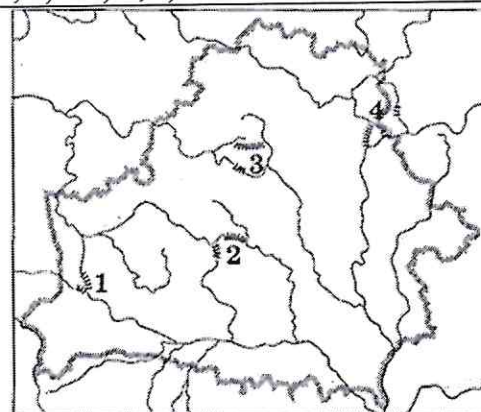
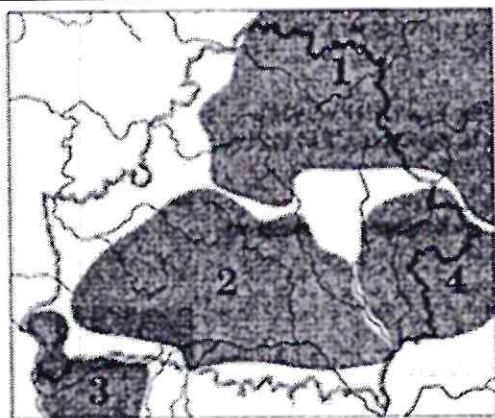
Задание V. ВЫПОЛНИТЕ ЗАДАНИЯ ПО КАРТОСХЕМАМ

За каждый полный правильный ответ – 1 балл. Максимальное количество баллов – 10



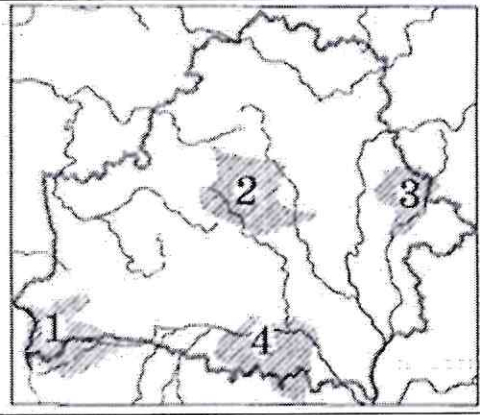
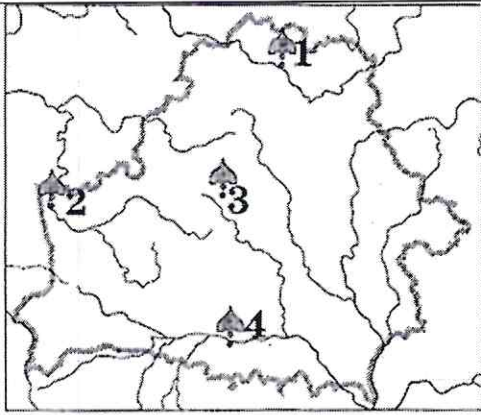
35. «Мураваны стоўп камен» (башня) был построен в XIII в. на месте, которое обозначено на картосхеме цифрой:
а) 1; б) 2; в) 3; г) 4.

36. Город, в котором в 1253 г. произошла коронация Миндовга, обозначен на картосхеме цифрой:
а) 1; б) 2 в) 3; г) 4.



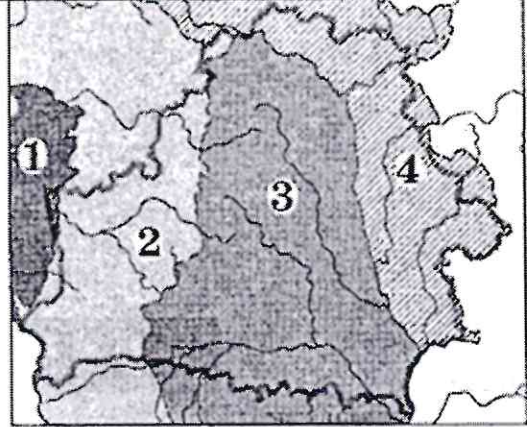
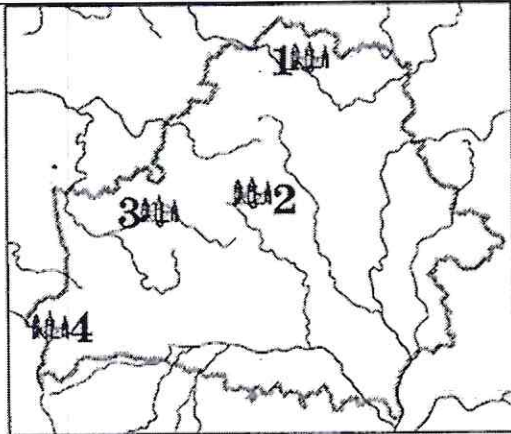
37. Территория расселения дреговичей на картосхеме указана цифрой:
а) 1; б) 2; в) 3; г) 4.

38. Местонахождение волоков, которые соединяли Западную Двину с Днепром и за которые боролся с Новгородом полоцкий князь Брячислав, обозначено на картосхеме цифрой: а) 1; б) 2; в) 3; г) 4.



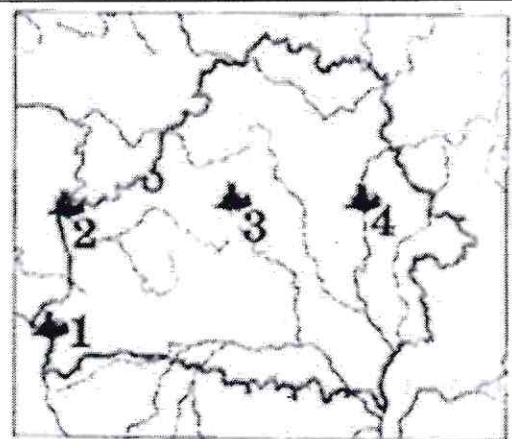
39. Город, ставший центром созданной в 1005 г. епархии указан на картосхеме цифрой:
а) 1; б) 2; в) 3; г) 4.

40. Территория староства, в котором в мае 1740 г. началось восстание под руководством В. Вацилы, обозначена на картосхеме цифрой:
а) 1; б) 2; в) 3; г) 4.



40. Город, в котором в 1550—1570-е гг. действовала первая в границах современной территории Беларуси типография, обозначен на картосхеме цифрой:
а) 1; б) 2; в) 3; г) 4.

41. Территория, присоединенная к Российской империи в результате второго раздела Речи Посполитой, обозначена на картосхеме цифрой:
а) 1; б) 2; в) 3; г) 4.



42. Город, в котором в годы Великой Отечественной войны действовала подпольная группа под руководством В. Хоружей, обозначен на карте цифрой:
а) 1; б) 2; в) 3; г) 4.

43. Город, где в БССР было построено предприятие по производству телевизоров, обозначен на картосхеме цифрой:
а) 1; б) 2; в) 3; г) 4.

ОТВЕТЫ, 9 кл.

ВСЕМИРНАЯ ИСТОРИЯ.

Задание I. Правильным является только один вариант ответ.

За каждый полный правильный ответ – 1 балл. Максимальное количество баллов – 15

1. в 2. г 3. в 4. а 5. в 6. г 7. а 8. в
9. г 10. б 11. а 12. г 13. г 14. б 15. в

Задание II.

За каждый полный правильный ответ – 1 балл. Максимальное количество баллов – 20

16. 1- д	2- в	3- б	4- а	5- е	6- г
----------	------	------	------	------	------

17. 1- г	2- а	3- д	4- б	5- в
----------	------	------	------	------

18. 1- в	2- г	3- б	4- д	5- а
----------	------	------	------	------

19. 1- в	2- а	3- г	4- б
----------	------	------	------

Задание III. УЗНАЙТЕ ПОНЯТИЯ ПО ОПРЕДЕЛЕНИЯМ И ЗАПИШИТЕ ИХ В СООТВЕТСТВУЮЩИЕ ПУСТЫЕ ЯЧЕЙКИ ТАБЛИЦЫ:

За каждый полный правильный ответ – 1 балл. Максимальное количество баллов – 10

20.	Уния
21.	Касты
22.	Метрополия
23.	Сегун
24.	Нация
25.	Блицкриг
26.	Суверенитет
27.	Референдум
28.	Глобализация
29.	Репарации

Задание IV. ЗАПОЛНИТЕ ТАБЛИЦУ

«Сходные и отличные черты христианства и ислама»

Максимальное количество баллов – 12.

	Критерии для сравнения	Христианство	Ислам
30.	Время и место возникновения	Палестина	Аравийский полуостров
31.	Основоположник	Иисус Христос	Мухаммед
32.	Священная книга	Библия	Коран

Задание V. ЧТО ОБЪЕДИНЯЕТ ИСТОРИЧЕСКИХ ДЕЯТЕЛЕЙ?

За каждый полный правильный ответ – 2 балла. Максимальное количество баллов – 10

33.	Римские императоры
34.	Конунги викингов
35.	Французские просветители
36.	Советские полководцы, участники гражданской войны в России
37.	Полководцы, участники Второй мировой войны

Задание VI. НАПИШИТЕ ДАТЫ ОБРАЗОВАНИЯ ГОСУДАРСТВ:

За каждый полный правильный ответ – 1 балл. Максимальное количество баллов – 8

38.	Римская республика	509 г. до н.э.
39.	Империя Цинь	221 г. до н. э.

40.	Киевская Русь	882 г.
41.	Российская империя	1721 г.
42.	США	1776 г.
43.	Израиль	1948 г.
44.	Российская Федерация	1991 г.
45.	Федеративная Республика Германия	1949 г.

Задание VII. 46. ПРОЧИТАЙТЕ ТЕКСТ И ОТВЕТЬТЕ НА ВОПРОСЫ.

Максимальное количество баллов – 6

«Франция проиграла сражение, но она не проиграла войну! Ничего не потеряно, потому что эта война мировая. Настанет день, когда Франция вернет себе свободу и величие ... Вот почему я обращаюсь ко сем французам объединиться вокруг меня во имя действия, самопожертвования и надежды»

1. Какому известному политическому деятелю принадлежит данное высказывание?
Шарль де Голль
2. В связи с какими событиями эта речь была произнесена?
В связи с оккупацией территории Франции нацистской Германией в 1940 г.
3. Какую роль этот политик сыграл в дальнейшем в истории Франции?
Как руководитель государства превратил Францию в одно из ведущих государств современного мира

Задание VIII. ОПРЕДЕЛИТЕ ПРЕДСТАВЛЕННЫЕ НА ИЛЛЮСТРАЦИЯХ ИСТОРИЧЕСКИЕ ЛИЧНОСТИ. УКАЖИТЕ СТРАНУ И СОБЫТИЯ, СВЯЗАННЫЕ С НИМИ:

За каждый полный правильный ответ – 3 балла. Максимальное количество баллов – 24

Ответы:

№	Историческая личность	Страна	События
47.	Мустафа Кемаль	Д	II
48.	Михаил Илларионович Кутузов	З	VI
49.	Борис Джонсон	А	IV
50.	Джордж Вашингтон	Ж	IX
51.	Иэясу Токугава	В	VIII
52.	Шарль де Голль	Г	V
53.	Мао Цзедун	И	I
54.	Гельмут Коль	Б	VII

ИСТОРИЯ БЕЛАРУСИ.

Задание I. Правильным является только один вариант ответа.

За каждый полный правильный ответ – 1 балл. Максимальное количество баллов – 15

1. б 2. а 3. г 4. б 5. в 6. а 7. а 8. в 9. в 10. б
11. г 12. в 13. а 14. б 15. а

Задание II.

За каждый полный правильный ответ – 1 балл. Максимальное количество баллов – 19

16. 1- г	2- е	3- в	4- д	5- а	6- б
----------	------	------	------	------	------

17. 1- в	2- г	3- б	4- а	5- д
----------	------	------	------	------

18. 1- б	2- г	3- а	4- в
----------	------	------	------

19. 1- б	2- в	3- г	4- а
----------	------	------	------

Задание III. ОПРЕДЕЛИТЕ ПРЕДСТАВЛЕННЫЕ НА ИЛЛЮСТРАЦИЯХ ИСТОРИЧЕСКИЕ ЛИЧНОСТИ ИЗ ИСТОРИИ БЕЛАРУСИ:

За каждый полный правильный ответ – 1 балл. Максимальное количество баллов – 6

20 – Петр Миронович Машеров	21 - Николай Францевич Гастелло	22 - Станислав II Август Понятовский
24 – Тадеуш Костюшко	25 – Август II Сильный	26 – Всеволод Игнатовский

Задание IV. УЗНАЙТЕ ПОНЯТИЯ ПО ОПРЕДЕЛЕНИЯМ И ЗАПИШИТЕ ИХ В СООТВЕТСТВУЮЩИЕ ПУСТЫЕ ЯЧЕЙКИ ТАБЛИЦЫ:

За каждый полный правильный ответ – 1 балл. Максимальное количество баллов – 8

27.	Юридика
28.	Экономия
29.	Американский
30.	Оккупация
31.	Буферное государство
32.	Гетто
33.	Багратион
34.	Гражданство

Задание V. ВЫПОЛНИТЕ ЗАДАНИЯ ПО КАРТОСХЕМАМ

За каждый полный правильный ответ – 1 балл. Максимальное количество баллов – 10

35. а	36. в
37. б	38. г
39. г	40. в
40. г	41. в
42. а	43. в

Итого: 163 б.